



Задания по ФЭМП для детей старшего возраста




УЧИМСЯ ПИСАТЬ ЦИФРЫ



• Напиши цифры по точкам.






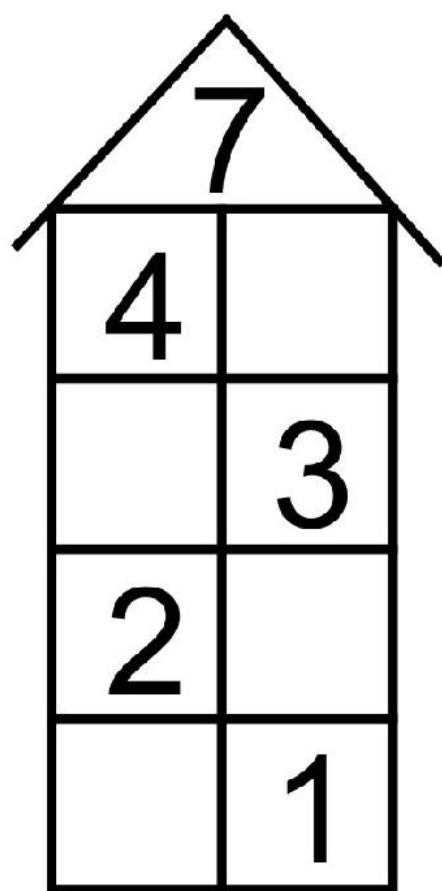
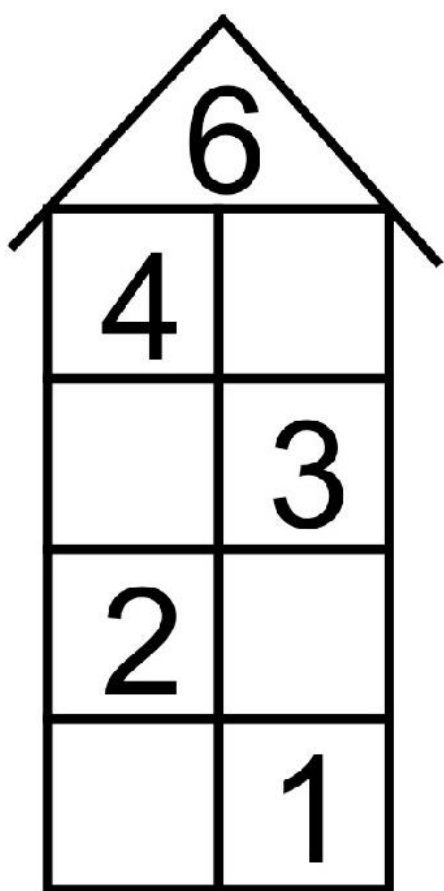
В пустые окошки напишите соседей чисел.





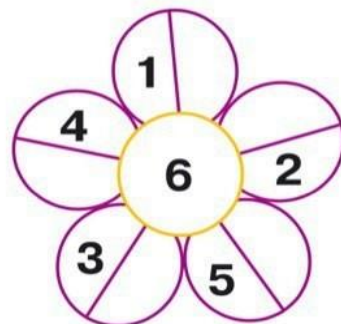
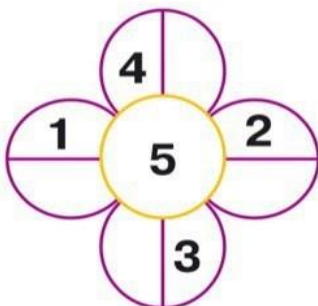
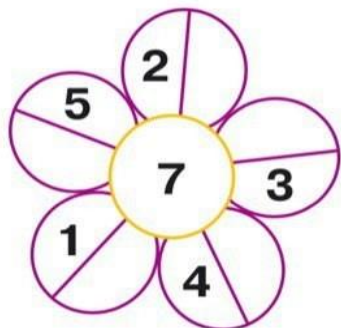
• Напиши цифры и числа по точкам.



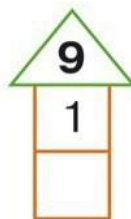
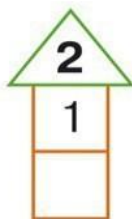


СОСТАВ ЧИСЛА

- Впиши недостающие числа в лепестки цветов.



- Заполни пустые клеточки.



МАТЕМАТИКА

Расставь знаки $>$, $<$, $=$.

$5 \bigcirc 8$

$9 \bigcirc 4$

$1 \bigcirc 5$

$4 \bigcirc 1$

$5 \bigcirc 1$

$2 \bigcirc 4$

$7 \bigcirc 2$

$7 \bigcirc 6$

$9 \bigcirc 9$

$6 \bigcirc 6$

$9 \bigcirc 8$

$7 \bigcirc 7$

$5 \bigcirc 3$

$10 \bigcirc 10$

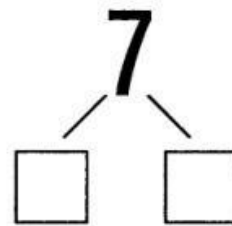
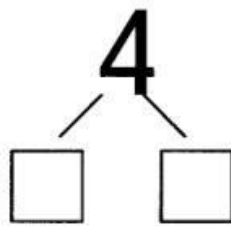
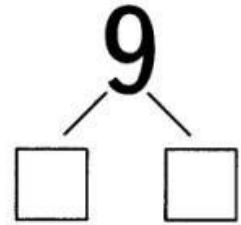
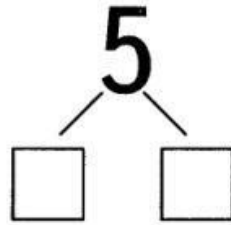
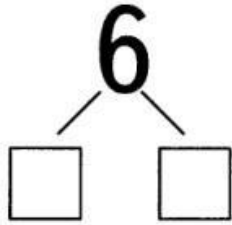
$1 \bigcirc 4$

$4 \bigcirc 8$

$9 \bigcirc 2$

$5 \bigcirc 2$


Из каких чисел состоят?



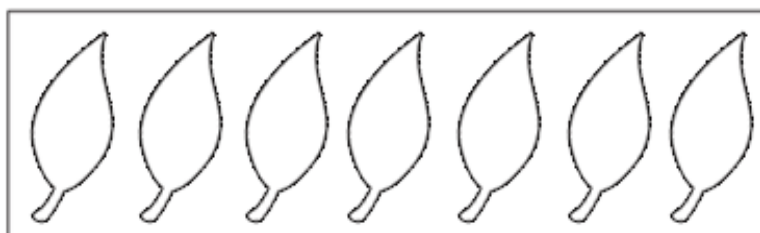
Посчитай и раскрась




3



7




4



6



Помоги собаке добраться до косточки, проходя только по многоугольникам с кругами. Раскрась дорожку зелёным.



Дорисуй фигурки в домино.

Раскрась ○ - жёлтым, △ - синим,
□ - розовым, ○ - оранжевым.

