


Посмотри внимательно на ёжиков и скажи, чем они отличаются.




Раскрась ёжиков

Кто из зверят в каком домике живет?
Пройди по дорожкам вместе с ними.




Реши примеры, запиши ответы.

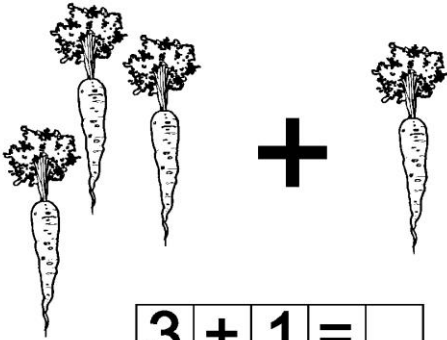


$$2 + 2 = \square$$

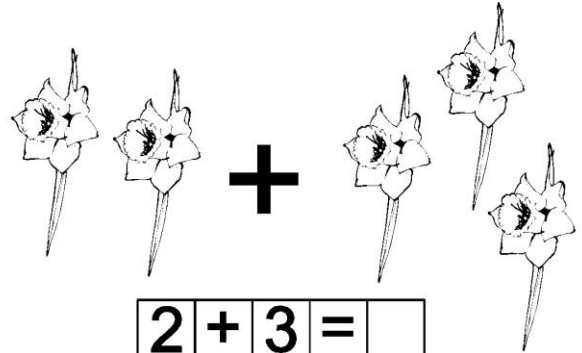
Реши примеры, запиши ответы.



$$1 + 3 = \square$$




$$3 + 1 = \square$$



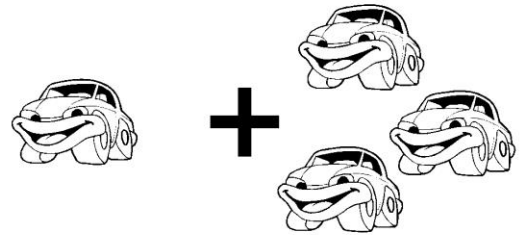
$$2 + 3 = \square$$

Реши примеры, запиши ответы.




$$4 + 1 = \square$$

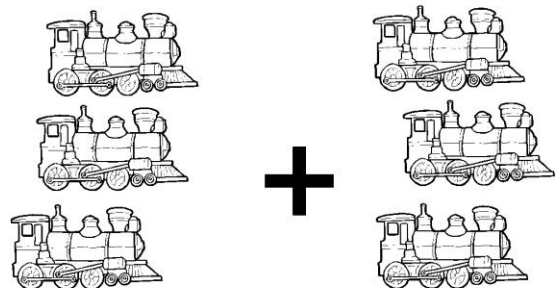
Реши примеры, запиши ответы.



$$1 + 3 = \square$$



$$2 + 3 = \square$$



$$3 + 3 = \square$$

Задание. Расставь знаки $>$, $<$, $=$

5	4	9	7	5	3
2	7	7	7	6	9
9	6	1	6	8	4
3	3	4	5	5	7(

Задание. Поставь нужные числа.

$4 > \square$	$5 < \square$	$2 = \square$
$3 = \square$	$6 > \square$	$9 < \square$
$7 < \square$	$8 = \square$	$6 > \square$
$9 = \square$	$7 > \square$	$9 = \square$
$2 < \square$	$1 = \square$	$5 > \square$
$1 > \square$	$3 < \square$	$7 = \square$

Напиши соседние числа



	5	
--	---	--

	3	
--	---	--

	6	
--	---	--

	2	
--	---	--

	8	
--	---	--

	4	
--	---	--

	7	
--	---	--

	9	
--	---	--

	1	
--	---	--