



Уважаемые родители! Предлагаем несколько заданий по математике:

40.

1) Нарисуй на каждой картинке сверху столько же палочек, сколько красных кругов внизу.

6



2

1



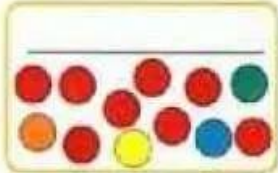

8

5



3

7



4



9

2) Сколько палочек ты нарисовал сверху на каждой картинке? Соедини линией картинку с цифрой.

41.



У кого сколько ног? Соедини линией картинку с цифрой.

2

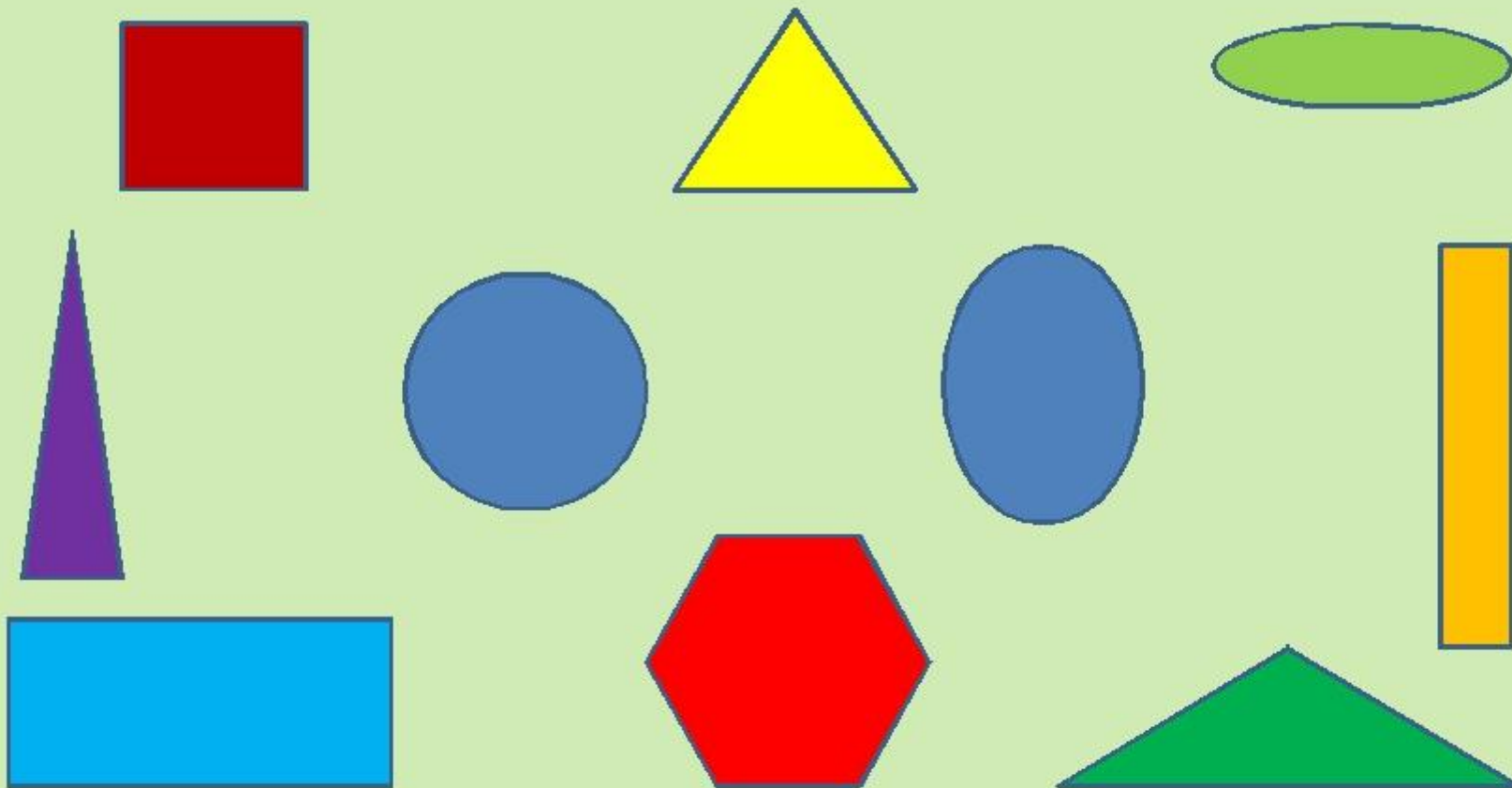
4


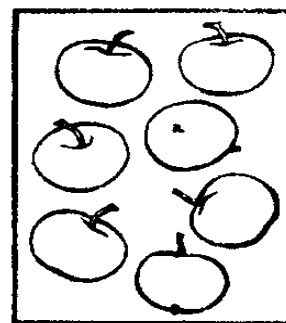
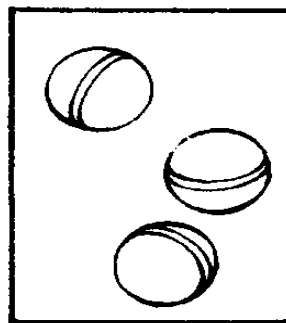


6

8



- НАЗОВИ ГЕОМЕТРИЧЕСКИЕ ФИГУРЫ
- КАКИЕ ФИГУРЫ ОТНОСЯТСЯ К МНОГОУГОЛЬНИКАМ?
СКОЛЬКО ЗДЕСЬ МНОГОУГОЛЬНИКОВ?
- ЧЕМ ОТЛИЧАЮТСЯ КРУГ И ОВАЛ? ЧЕМ ОНИ ПОХОЖИ?





1

2

3

4

5

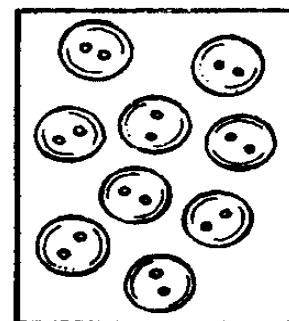
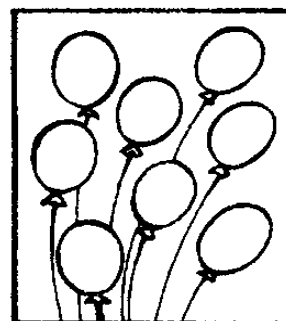
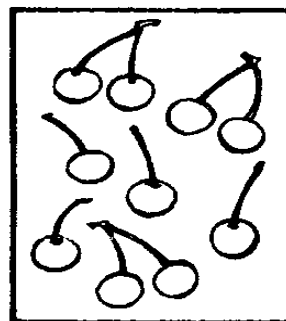

6

7

8

9

10



Впиши пропущенные числа.

□ — 2 — □ — 4 — 5 — □ — □ — 8 — □ — 10

1 — ○ — 3 — ○ — 5 — ○ — 7 — ○ — ○ — 10