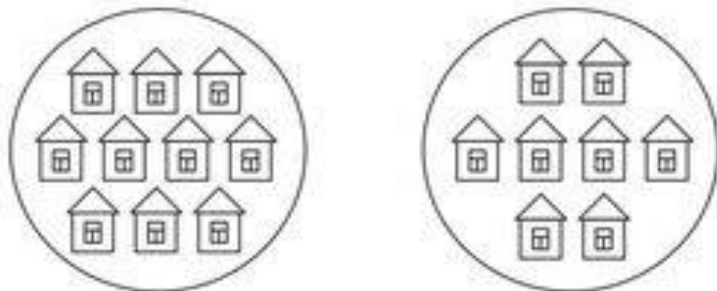


Раскрась тарелку, на которой нарисовано десять домиков.



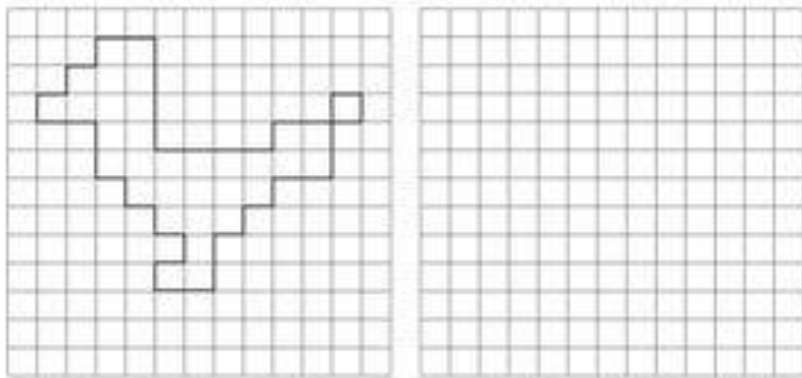
Запиши все числа от 1 до 10

.


Запиши все числа от 10 до 1

.


Нарисуй фигуру по клеточкам.



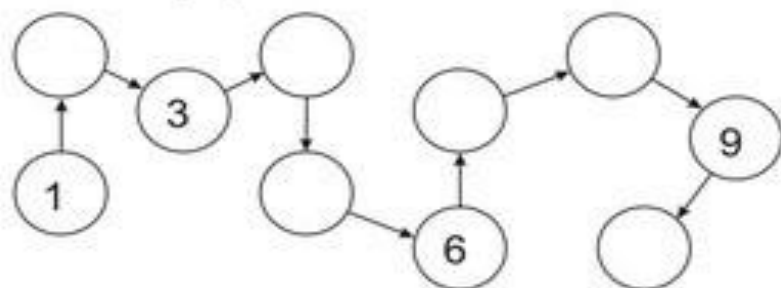
Напиши нужную цифру.



Нарисуй значки в фигурках.



Заполни ряд:



Реши примеры:

$1 + 1 =$

$4 + 1 =$

$7 + 1 =$

$2 + 1 =$

$5 + 1 =$

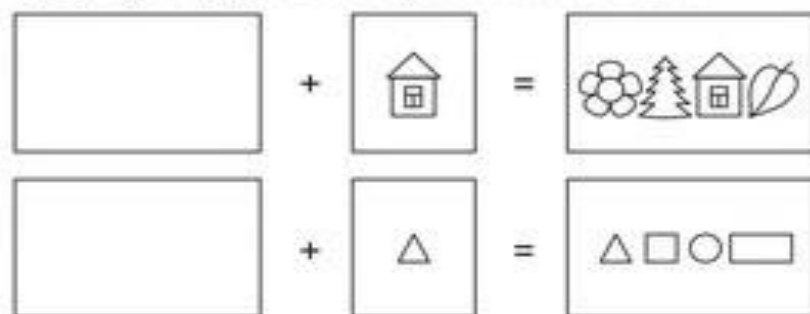
$8 + 1 =$

$3 + 1 =$

$6 + 1 =$

$9 + 1 =$

Дорисуй предметы в пустых клеточках.



Реши примеры:

$10 - 8 = \square$

$9 - 8 = \square$

Покажи при помощи цветных карандашей решение примеров:

$\bigcirc \bigcirc \bigcirc \bigcirc \bigcirc \bigcirc \bigcirc \bigcirc \bigcirc \bigcirc \bigcirc \bigcirc \quad 5 + 5 = \square$

$\bigcirc \bigcirc \bigcirc \bigcirc \bigcirc \bigcirc \bigcirc \bigcirc \quad 6 + 2 = \square$

$\bigcirc \bigcirc \bigcirc \bigcirc \bigcirc \bigcirc \bigcirc \bigcirc \bigcirc \quad 4 + 5 = \square$

$\bigcirc \bigcirc \bigcirc \bigcirc \bigcirc \bigcirc \quad 5 + 1 = \square$

Заштрихуй каждый второй квадрат:

